



# Prefeitura Municipal de Araçatuba - SP

## CONCURSO PÚBLICO Nº 01/2016

203 - TÉCNICO DE RAIOS X

### INSTRUÇÕES - PROVA OBJETIVA

- Este caderno contém 40 questões, com 4 alternativas cada uma.
- Cada questão contém somente UMA ALTERNATIVA CORRETA.
- Com letra legível, preencha o campo abaixo com seu nome.
- Verifique se o cargo para o qual você se inscreveu é o mesmo deste caderno de questões.
- Caso este caderno esteja incompleto, tenha qualquer defeito ou não seja a prova para o cargo ao qual você se inscreveu, solicite ao Fiscal que providencie a substituição do caderno.
- Assine a FOLHA DEFINITIVA DE RESPOSTAS com caneta de tinta AZUL ou PRETA.
- A duração da prova é de 3h (três horas).
- O tempo mínimo de permanência na sala é de 1h (uma hora) após o início da prova.
- Por questão de segurança, o candidato não poderá retirar-se da sala de prova levando a folha de respostas e/ou caderno de questões.
- Se desejar, use o cartão afixado na carteira como folha intermediária de respostas

**AGUARDE A ORDEM DO FISCAL PARA ABRIR ESTE CADERNO.**

Nome do candidato

Concursos  
**FAPERP**

Leia o texto a seguir para responder as questões de 1 a 3.

### A Ciência explica: por que odiamos tanto as segundas-feiras?

Por Daiana Geremias  
24 nov 2014 - 10h 45

Por mais que os mais otimistas tentem não ver o lado ruim da semana, a maioria de nós acorda de mau humor no primeiro dia útil dela. Se essa implicância com a segunda-feira também incomoda você, a boa notícia é que a Ciência pode explicar as origens desse ódio todo – assim você pode tentar mudar esse padrão ou, no mínimo, pode começar a se sentir menos culpado. A galera do *Mental Floss* reuniu algumas provas científicas de que esse dia parece ser mesmo o mais detestado. Confira:

#### 1 – Uma questão de sono

A forma como sua mente trabalha está diretamente ligada com o seu relógio biológico e, se ele não vai bem, você acaba ficando de mau humor. Quer uma prova disso? Então se lembre do desconforto que o horário de verão provoca na maioria das pessoas. Com os finais de semana a coisa é bem parecida.

Vamos direto ao ponto: durante a semana talvez seu sono seja mais controlado e você mantenha uma rotina com relação aos horários que dorme e acorda. Aí, quando chega o sábado, você acorda ao meio-dia, vai dormir bem mais tarde e acorda tarde também no domingo, certo? Pois é.

Acontece que essa mudança toda bagunça seu relógio biológico de tal maneira que na segunda-feira de manhã você vai acordar com sono, com preguiça e mau humor. A dica é tentar manter uma rotina de sono, mesmo aos finais de semana. Dormir e acordar sempre nos mesmos horários pode ser a solução para o problema – ou parte dela [...]

#### 2 – Socializando

Seres humanos são criaturas sociáveis que, antes de se sentirem à vontade para conversar e interagir com outras pessoas, precisam ter certeza de que estão seguros. Por mais que o final de semana dure apenas dois dias, já é tempo suficiente para que nossos instintos reajam com mais cautela na hora de voltar à ativa.

Por isso, a Ciência afirma que é saudável reunir aquele grupinho de amigos e contar sobre o final de semana na hora da pausa para o café, por exemplo. Essas “fococas” de trabalho vão fazer com que sua semana renda mais. Eis uma boa informação para repassar ao seu chefe, hein?

#### 3 – Impressão

Um grupo de cientistas descobriu, por meio de uma pesquisa feita com diversas pessoas, que, na verdade, segundas-feiras são tão horríveis quanto terças, quartas e quintas. O único dia não odiado entre os dias úteis é a sexta-feira, que nada mais é do que uma prévia do final de semana, portanto, difícil não amar.

Ainda que os quatro primeiros dias úteis da semana sejam igualmente ruins, as pessoas tendem a eleger a segunda-feira como o pior dia da semana de qualquer forma. Isso tem a ver com a proximidade que ela está do domingo, que acabou, e com a distância que está da próxima sexta-feira.

#### 4 – Você se sente mal com relação a você mesmo

Nas festas de sexta, nas de sábado e até nas de domingo, as pessoas bebem mais, comem mais e fumam mais do que o normal, o que, obviamente, tem um efeito negativo na saúde física e, inclusive, na aparência de cada pessoa.

Além disso, a segunda-feira é vista como o dia ideal para mudar alguma coisa. É por isso que nesse dia as pessoas param de fumar, começam a ir para a academia, entram em uma dieta nova ou fazem qualquer outra mudança que, no final das contas, podem representar momentos difíceis, principalmente se são decisões tomadas porque a pessoa precisa e não porque ela quer [...]

<http://migre.me/tAGkU>

### QUESTÃO 1

Leia as alternativas a seguir e assinale a incorreta em relação ao porquê acordamos mal às segundas-feiras, de acordo com o texto.

- A segunda é vista como um dia ideal para tomar decisões como parar de fumar ou iniciar uma dieta, que são difíceis, exigem esforço e dedicação.
- A alteração na rotina do sono, como dormir mais tarde e acordar mais tarde, bagunça o relógio biológico e nos faz ficar mal humorados na volta à rotina.
- Não gostar da segunda é histórico. De acordo com o calendário hebreu, as segundas eram os dias de maior registro de mortes, por isso, o dia de finados.
- Na verdade, as pessoas não gostam muito de todos os dias ordinários de trabalho. Elas sofrem mais pela segunda devido à proximidade com o domingo.

### QUESTÃO 2

Observe os pronomes em destaque no trecho a seguir, retirado do texto:

“Além disso, a segunda-feira é vista como o dia ideal para mudar alguma coisa. É por isso que nesse dia as pessoas param de fumar, começam a ir para a academia, entram em uma dieta nova ou fazem qualquer outra mudança que, no final das contas, podem representar momentos difíceis [...]”.

Assinale a alternativa que contém o referente correspondente a cada um deles.

- Isso: a segunda-feira é vista como o dia ideal para mudar alguma coisa.  
Nesse: segunda-feira.
- Isso: nas festas de sexta, nas de sábado e até nas de domingo, as pessoas bebem mais, comem mais e fumam mais do que o normal.  
Nesse: dia.
- Isso: as pessoas param de fumar, começam a ir para a academia, entram em uma dieta nova ou fazem qualquer outra mudança.  
Nesse: momento difícil.
- Isso: podem representar momentos difíceis.  
Nesse: ideal.

### QUESTÃO 3

Observe a forma verbal em destaque no trecho abaixo, retirado do texto, e assinale a alternativa que contém a expressão que com ela concorda, determinando seu número e pessoa.

*“Seres humanos são criaturas sociáveis que, antes de se sentirem à vontade para conversar e interagir com outras pessoas, precisam ter certeza de que estão seguros.”*

- a) Outras pessoas.
- b) Seres humanos.
- c) Seguros.
- d) Certeza.

Leia o texto abaixo para responder as questões de 4 a 7.

#### TINTIM

Luís Fernando Veríssimo

*Durante alguns anos, o tintim me intrigou. Tintim por tintim: o que queria dizer aquilo? Imaginei que fosse alguma misteriosa medida de outros tempos que sobrevivera ao sistema métrico, como a braça, a légua, etc. Outro mistério era o triz. Qual a exata definição de um triz? É uma subdivisão de tempo ou de espaço. As coisas deixam de acontecer por um triz, por uma fração de segundo ou de milímetro. Mas que fração? O triz talvez correspondesse a meio tintim, ou o tintim a um décimo de triz. Tanto o tintim quanto o triz pertenceriam ao obscuro mundo das microcoisas. Há quem diga que não existe uma fração mínima de matéria, que tudo pode ser dividido e subdividido. Assim como existe o infinito para fora - isto é, o espaço sem fim, depois que o Universo acaba - existiria o infinito para dentro. A menor fração da menor partícula do último átomo ainda seria formada por dois trizes, e cada triz por dois tintins, e cada tintim por dois trizes, e assim por diante, até a loucura.*

*Descobri, finalmente, o que significa tintim. É verdade que, se tivesse me dado o trabalho de olhar no dicionário mais cedo, minha ignorância não teria durado tanto. Mas o óbvio, às vezes, é a última coisa que nos ocorre. Está no Aurelião. Tintim, vocábulo onomatopaico que evoca o tinido das moedas. Originalmente, portanto, “tintim por tintim” indicava um pagamento feito minuciosamente, moeda por moeda. Isso no tempo em que as moedas, no Brasil, tiniam, ao contrário de hoje, quando são feitas de papelão e se chocam sem ruído. Numa investigação feita hoje da corrupção no país tintim por tintim ficaríamos tinindo sem parar e chegaríamos a uma nova concepção de infinito. Tintim por tintim. A menina muito dada namoraria sim-sim por sim-sim. O gordo incontrolável progrediria pela vida quindim por quindim. O telespectador habitual viveria plim-plim por plim-plim. E você e eu vamos ganhando nosso salário tin por tin (olha aí, a inflação já levou dois tins). Resolvido o mistério do tintim, que não é uma subdivisão nem de tempo nem de espaço nem de matéria, resta o triz. O Aurelião não nos ajuda. “Triz”, diz ele, significa por pouco. Sim, mas que pouco?*

*Queremos algarismos, vírgulas, zeros, definições para “triz”. Substantivo feminino. Popular. “Icterícia.” Triz quer dizer ictericia. Ou teremos que mudar todas as nossas teorias sobre o Universo ou teremos que mudar de assunto. Acho melhor mudar de assunto. O Universo já tem problemas demais.*

\*Comédias para se ler na escola  
<http://migre.me/tAGmR>

### QUESTÃO 4

Ao longo do texto, o autor diz o que para ele significa a palavra “tintim”. Observe as alternativas abaixo e assinale aquela que corresponde ao original significado da palavra.

- a) Medida de outros tempos que sobrevivera ao sistema métrico, como a braça, a légua, etc.
- b) Unidade de medida pertencente ao mundo das microcoisas, um décimo de “triz” talvez.
- c) Barulho que acontecia quando o pagamento pelas coisas era feito moeda por moeda (tilintar do metal).
- d) Advérbio de intensidade: um pouco.

### QUESTÃO 5

Observe a acentuação da palavra “icterícia”, retirada do texto. Assinale a alternativa que adequadamente justifica o emprego do acento neste caso.

- a) Palavras paroxítonas terminadas em A devem ser acentuadas.
- b) Palavras oxítonas terminadas em A devem ser acentuadas.
- c) Palavras proparoxítonas devem ser acentuadas, sem exceções.
- d) Palavras paroxítonas terminadas em ditongo devem ser acentuadas.

### QUESTÃO 6

Observe que, no trecho abaixo, retirado do texto, o autor flexiona o substantivo “triz” e cria para ele uma forma plural: “trizes”. Assinale, entre as alternativas abaixo, o substantivo que segue o mesmo processo de formação de plural realizado por ele.

*“A menor fração da menor partícula do último átomo ainda seria formada por dois trizes.”*

- a) Flor.
- b) Cidadão.
- c) Casa.
- d) Feijão.

### QUESTÃO 7

A expressão adverbial em destaque no trecho abaixo, retirado do texto, deve receber o acento grave, indicativo de crase. Analise as alternativas abaixo e assinale aquela em que essa marcação esteja incorreta.

*“Mas o óbvio, às vezes, é a última coisa que nos ocorre.”*

- a) À esquerda.
- b) À espera.
- c) À sós.
- d) À disposição.

Leia a tirinha a seguir para responder as questões de 8 a 10.



<http://migre.me/tAGnB>

### QUESTÃO 8

No segundo quadrinho, a pulga diz ao rato “você não entendeu!”. Assinale a alternativa que melhor explica a confusão que se estabeleceu na tirinha.

- a) A pulga disse ao rato que a vovó estava dormindo. Tal fato alegrou o rato porque ele desconhecia a potência do ronco da vovó: eles não puderam ver TV apesar do sono.
- b) A pulga disse ao rato que a vovó havia dormido e o mesmo julgou ser possível que eles assistissem ao canal que desejassem, mas a TV estava quebrada.
- c) A pulga disse ao rato que a vovó havia dormido e ele se alegrou na esperança de comandar os canais da TV, entretanto, a vovó acordou rapidamente de seu cochilo e ele não pôde realizar seu desejo.
- d) A pulga disse ao rato que a vovó dormiu na frente da TV. O rato julgou que a velhinha estivesse dormindo sentada frente à TV e se alegrou com a possibilidade de trocar os canais, mas ela estava dormindo literalmente na frente da TV, encostada à tela.

### QUESTÃO 9

Assinale a alternativa que adequadamente justifica o emprego do negrito na fala da pulga no terceiro quadrinho.

- a) Enfoque no significado literal (linguagem denotativa).
- b) Indicativo de ironia.
- c) Enfoque no sentido figurado (linguagem conotativa).
- d) Indicativo de surpresa.

### QUESTÃO 10

Assinale a alternativa que contém o tempo e o modo em que foi empregada a forma verbal em destaque nas frases abaixo, retiradas da tirinha.

“A vovó dormiu na frente da TV!”

“Ela dormiu a frente da TV!”

- a) Pretérito imperfeito do indicativo.
- b) Pretérito mais que perfeito do indicativo.
- c) Pretérito imperfeito do subjuntivo.
- d) Pretérito perfeito do indicativo.

**QUESTÃO 11**

Em uma lanchonete, foi realizada uma pesquisa com os seus frequentadores. Das 80 pessoas entrevistadas, 40% preferem ser atendidas no balcão,  $\frac{1}{4}$  é indiferente, e o restante são as pessoas que preferem ser atendidas na mesa. O número de pessoas entrevistadas que preferem ser atendidas na mesa é igual a:

- a) 28.
- b) 32.
- c) 36.
- d) 39.

**QUESTÃO 12**

Em um supermercado, no setor de frios, um cartaz anunciava o preço do presunto da marca X a R\$ 2,04 cada 100 gramas e o preço do presunto da marca Y a R\$ 1,70 cada 100 gramas. Um cliente, que dispunha do valor necessário para comprar 1 kg do presunto da marca X, optou por gastar todo esse valor com o presunto da marca Y. Então, foram comprados da marca Y:

- a) 2,1 kg.
- b) 1,7 kg.
- c) 1,4 kg.
- d) 1,2 kg.

**QUESTÃO 13**

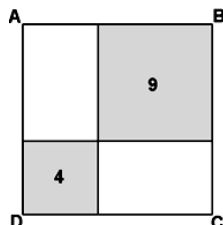
Em uma clínica para tratamento de obesidade anunciam-se perdas de peso de até 200 g por dia. Uma pessoa com 99 kg inicia um tratamento nessa clínica. Admitindo máxima eficiência no tratamento, para conseguir atingir 85 kg, essa pessoa precisa de, no mínimo:

- a) 60 dias.
- b) 70 dias.
- c) 80 dias.
- d) 90 dias.

**QUESTÃO 14**

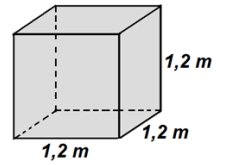
No interior do quadrado ABCD estão em destaque dois quadrados menores, de áreas 4 e 9. Desse modo, é correto afirmar que a área do quadrado ABCD é igual a:

- a) 26.
- b) 25.
- c) 24.
- d) 21.

**QUESTÃO 15**

Uma caixa d'água, no formato cúbico, tem arestas medindo 1,2 metros. A capacidade dessa caixa é igual a:

- a) 1 440 litros.
- b) 1 682 litros.
- c) 1 728 litros.
- d) 1 878 litros.



## CONHECIMENTOS GERAIS E ATUALIDADES

### QUESTÃO 16

A conhecida expressão “malha fina” remete à sigla:

- a) IRPF.
- b) FGTS.
- c) IBGE.
- d) MEC.

### QUESTÃO 17

Na sua composição atual (março de 2016) o Supremo Tribunal Federal (STF) do Brasil, órgão da cúpula do Poder Judiciário, conta com apenas duas ministras, a saber:

- a) Cármen Lúcia e Rosa Weber.
- b) Cármen Lúcia e Ellen Gracie.
- c) Ellen Gracie e Rosa Weber.
- d) Eliana Calmon e Gleisi Hoffmann.

### QUESTÃO 18

Edward Snowden ironizou, pelo Twitter, em meados do mês de março de 2016, as conversas telefônicas (liberadas pelo juiz Sérgio Moro) entre a presidente Dilma e o ex-presidente Lula: “Três anos após as manchetes de escuta e a presidente ainda faz chamadas não criptografadas”. Assinale a alternativa que se refere a Edward Snowden.

(Ref.: <http://exame.abril.com.br/brasil/noticias/pelo-twitter-snowden-ironiza-grampo-em-dilma>)

- a) Embaixador americano, acusado de facilitar a fuga do senador boliviano Roger Pinto da embaixada brasileira, em La Paz, para o Brasil, em 2012, levando a presidente Dilma a demitir o ministro Antonio Patriota.
- b) Ex-funcionário da CIA e NSA (agências americanas de inteligência e segurança), acusado pelos EUA de espionagem por revelar dados sigilosos de segurança do país e de seus programas de vigilância pela Internet.
- c) Gerenciador de sistemas e assessor de Hillary Clinton (candidata à presidência dos EUA), acusado de monitorar, em 2014, conversas de Dilma com assessores sobre políticas de gestão da Petrobrás.
- d) Assessor do senador Delcídio Amaral (investigado pela operação Lava Jato), acusado de plantar junto à imprensa informações comprometedoras referentes à intimidade do político com o Planalto.

### QUESTÃO 19

Segundo dados do TSE, atualmente o sistema eleitoral brasileiro congrega quantos partidos aptos a lançar candidatos em 2016?

- a) menos de 10.
- b) entre 10 e 19.
- c) entre 20 e 30.
- d) mais de 30.

### QUESTÃO 20

O chamado índice de Breteau é um valor numérico que tem sido utilizado para a avaliação, no Brasil:





- a) da taxa de mortalidade infantil.
- b) da taxa de obesidade da população.
- c) da prevalência do diabetes em idosos.
- d) do nível de infestação domiciliar do *Aedes aegypti*.

### QUESTÃO 21

Considere a seguinte descrição de um recurso do Microsoft Word 2007:

“Colorir o plano de fundo atrás do texto ou parágrafo selecionado”.

A partir da descrição apresentada, assinale a alternativa que contemple o recurso:

- a) cor da fonte ().
- b) sombreamento ().
- c) cor do realce do texto ().
- d) limpar formatação ().

### QUESTÃO 22

Muitas vezes, os usuários necessitam encontrar palavras, frases e diversas outras informações em textos escritos no Microsoft Word. Para isso, o software oferece um recurso de busca, cujo nome é:

- a) substituir.
- b) selecionar.
- c) localizar.
- d) revisar.

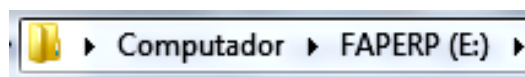
### QUESTÃO 23

Uma das facilidades que foi muito trabalhada no Microsoft Windows 7 é a sua capacidade de auto-configurar diversos dispositivos que são conectados ao computador de maneira bastante rápida. Para o usuário, este é um auxílio muito bem vindo. Este tipo de auto-configuração está muito relacionado com o mecanismo de:

- a) plug-and-play.
- b) gerenciamento de interfaces.
- c) conexão remota.
- d) conexão wifi.

### QUESTÃO 24

Considere a figura a seguir, extraída no Microsoft Windows Explorer:



Pelos seus conhecimentos sobre o Microsoft Windows e do gerenciador de arquivos Windows Explorer, o que se está indicando é:

- a) uma lista de todos os arquivos do sistema.
- b) a presença de um arquivo contaminado.
- c) o caminho para um determinado diretório ou subdiretório.
- d) a avaliação de desempenho do sistema.

### QUESTÃO 25

Trocar dados entre dispositivos, sejam celulares, tablets e até computadores, tornou-se, atualmente, uma tarefa muito mais simples. As tecnologias sem fio (*wireless*) desenvolvidas para isso proporcionam grande agilidade e eficiência aos processos. Dessa forma, assinale a alternativa que contempla uma dessas tecnologias amplamente utilizadas:

- a) USB.
- b) Rede cabeada.
- c) CD.
- d) Bluetooth.

## PRINCÍPIOS FUNDAMENTAIS DA ADMINISTRAÇÃO PÚBLICA

### QUESTÃO 26

Sobre os princípios constitucionais de direito administrativo assinale a alternativa falsa.

- a) A moralidade é um dos princípios regentes da Administração e está consagrado no *caput* do artigo 37 da Constituição Federal de 1988.
- b) O princípio da impessoalidade, entre outras aplicações, impõe à Administração uma conduta pautada pelo interesse público, na forma descrita na lei.
- c) O princípio da legalidade, de natureza infraconstitucional, permite aos agentes públicos praticar condutas diversas, desde que não haja previsão legal em contrário.
- d) O princípio do devido processo legal se aplica à Administração Pública, não sendo específico da atividade processual do Poder Judiciário.

### QUESTÃO 27

Sobre o princípio da eficiência assinale a alternativa falsa.

- a) A falta de zelo na atuação do servidor público que resulta em desperdício de dinheiro público pode ser considerada ato ofensivo ao princípio da eficiência.
- b) O gerenciamento de recursos públicos sem preocupação de obter deles o melhor resultado possível, no atendimento ao interesse público, ofende o princípio da eficiência.
- c) O estágio probatório está previsto expressamente na Constituição Federal, podendo ser considerado um instituto correlato ao princípio da eficiência.
- d) O princípio da eficiência foi introduzido no *caput* do artigo 37 pela Emenda Constitucional nº 19/98, sua adoção constitucional autoriza a sua prevalência sobre os demais princípios, visando o atingimento de metas e da Administração Gerencial.

### QUESTÃO 28

A Súmula Vinculante nº 13 do STF condena a prática de nepotismo. Tal prática afronta diversos princípios constitucionais de Direito Administrativo. Assinale a alternativa que contempla um desses princípios afrontados pelo nepotismo.

- a) Princípio da moralidade.
- b) Princípio da publicidade.
- c) Princípio do devido processo legal.
- d) Princípio da especificidade.

### QUESTÃO 29

Sobre o princípio administrativo da autotutela, assinale a alternativa verdadeira.

- a) O princípio da autotutela obriga a Administração Pública a tutelar direitos individuais que tenham finalidade pública.
- b) O princípio da autotutela obriga a Administração Pública a tutelar apenas direitos coletivos.
- c) O princípio da autotutela permite que a Administração Pública anule seus próprios atos quando eivados de vícios de legalidade.
- d) O princípio da autotutela permite que a Administração Pública reaprecie atos sobre o prisma do mérito, ao passo que cabe, exclusivamente ao Judiciário a análise da legalidade.

### QUESTÃO 30

Sobre o princípio da legalidade no âmbito da Administração Pública assinale a alternativa verdadeira.

- a) A obediência ao princípio da legalidade, no âmbito da Administração Pública, estabelece que os agentes públicos não são obrigados a fazer ou deixar de fazer alguma coisa senão em virtude de lei.
- b) A obediência ao princípio da legalidade, no âmbito da Administração Pública, estabelece o dever de observância da ética, probidade, lealdade, decoro, honestidade aos dois polos das relações jurídico-administrativas.
- c) A obediência ao princípio da legalidade, no âmbito da Administração Pública, determina que as decisões administrativas sejam proferidas somente depois de ouvidos os interessados e ainda, que as referidas decisões devem discorrer sobre as considerações arguidas.
- d) A obediência ao princípio da legalidade, no âmbito da Administração Pública, determina que tal princípio preceda os demais em toda atividade desenvolvida pelos agentes públicos.

## CONHECIMENTOS ESPECÍFICOS

### QUESTÃO 31

Existem duas incidências radiográficas que são utilizadas para melhor visualização do processo odontóide e outras estruturas de C1 e C2 dentro do forame magno. Assinale a alternativa verdadeira, quanto aos nomes das técnicas envolvidas no texto.

- a) Método de Judd (AP) e método de Fuch (PA).
- b) Método de Fuch (AP) e método de Judd (PA).
- c) Método de Ottonello (AP) e método de Fuch (PA).
- d) Método de Ottonello (AP) e método de Judd (PA).

### QUESTÃO 32

Na Tomografia Computadorizada, considerando os princípios de formação e qualidade da imagem tomográfica – Pixels, Matriz, FOV e Escala de Cinza -, é correto afirmar que:

- a) quanto maior o FOV, melhor a definição de imagem.
- b) o FOV não influencia na qualidade de imagem.
- c) trabalhar com o menor número de pixels para a área de interesse aumenta a qualidade da imagem obtida.
- d) quanto menor o FOV, melhor a definição de imagem.

### QUESTÃO 33

A incidência radiográfica do tórax em decúbito lateral, comumente utilizada para diagnosticar pequenos derrames pleurais ou pequenos volumes de ar na cavidade pleural (pneumotórax), é também conhecida como Método de:

- a) Caldwell.
- b) Laurell.
- c) Lindblom.
- d) Robert.

### QUESTÃO 34

Que tipo de ossos são as patelas?

- a) Sesamóides.
- b) Longos.
- c) Irregulares.
- d) Curtos.

### QUESTÃO 35

Onde situa-se a cavidade glenóide?

- a) Perna.
- b) Ombro.
- c) Crânio.
- d) Bacia.

### QUESTÃO 36

As incidências JONES, CALDWELL e HUGHSTON, referem-se respectivamente ao estudo das seguintes estruturas:


- a) crânio, abdome e articulação sacro-ilíaca.
- b) tórax, seios da face e crânio.
- c) cotovelo, ossos da face e patela.
- d) abdome, patela e crânio.

### QUESTÃO 37

A coluna vertebral é dividida em:

- a) 5 vértebras cervicais, 7 torácicas, 12 lombares, sacro, cóccix.
- b) 7 vértebras cervicais, 5 torácicas, 12 lombares, cóccix, sacro.
- c) 5 vértebras cervicais, 12 torácicas, 12 lombares, cóccix.
- d) 7 vértebras cervicais, 12 torácicas, 5 lombares, sacro, cóccix.

### QUESTÃO 38



Quanto às classes gerais de biotipo de paciente, o de número 3 recebe o nome de:

- a) estênico.
- b) astênico.
- c) hipostênico.
- d) hiperestênico.

---

**QUESTÃO 39**

---

Os raios X possuem comprimentos de onda entre:

- a)  $10^{-11}$  a  $10^{-8}$  m.
- b)  $4 \cdot 10^{-7}$  a  $10^{-9}$  m.
- c)  $8 \cdot 10^{-7}$  a  $4 \cdot 10^{-7}$  m.
- d)  $10^{-3}$  a  $10^{-6}$  m.

---

**QUESTÃO 40**

---

Não é um osso da mão:

- a) escafóide.
- b) trapezóide.
- c) deltóide.
- d) piramidal.

PCI Concursos

PCI Concursos

Concursos

**FAPERP**